

مدرسة عمر بن الخطاب الابتدائية

ورقة عمل - الاعداد ضمن ال 20

الصف الاول

اسمي: _____

صفي: _____

أحط العدد الزوجي بدائرة والعدد الفردي بمثلث :

16 11 13 20 14 5
4 18 12 15 17 19

اضف + أو - في المكان المناسب:

$14 \quad _ \quad 5 = 19$

$20 \quad _ \quad 9 = 11$

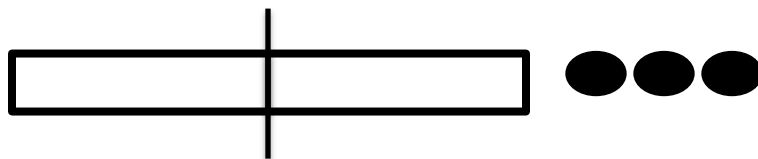
$16 \quad _ \quad 4 = 12$

$14 \quad _ \quad 7 = 7$

$11 \quad _ \quad 7 = 18$

$13 \quad _ \quad 7 = 20$

أنا أحل التمارين التالية :



_____ : الصحيح

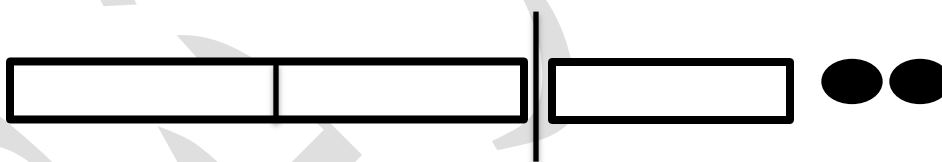
_____ , _____ : القسمان

$$\underline{\quad} + \underline{\quad} = \underline{\quad}$$

$$\underline{\quad} + \underline{\quad} = \underline{\quad}$$

$$\underline{\quad} - \underline{\quad} = \underline{\quad}$$

$$\underline{\quad} - \underline{\quad} = \underline{\quad}$$



_____ : الصحيح

_____ , _____ : القسمان

$$\underline{\quad} + \underline{\quad} = \underline{\quad}$$

$$\underline{\quad} + \underline{\quad} = \underline{\quad}$$

$$\underline{\quad} - \underline{\quad} = \underline{\quad}$$

$$\underline{\quad} - \underline{\quad} = \underline{\quad}$$

انا اكمل الناقص:

4

$7 + \underline{\quad} = 15$

$6 + \underline{\quad} = 12$

$3 + \underline{\quad} = 11$

$12 - \underline{\quad} = 7$

$18 - \underline{\quad} = 9$

$20 - \underline{\quad} = 15$

$\underline{\quad} + 14 = 20$

$\underline{\quad} + 13 = 18$

$\underline{\quad} + 11 = 16$

$\underline{\quad} - 8 = 4$

$\underline{\quad} - 7 = 7$

$\underline{\quad} - 10 = 1$

انا اطرح :

5

$12 - 6 =$

$15 - 8 =$

$17 - 16 =$

$19 - 10 =$

$16 - 12 =$

$14 - 4 =$

6

انا اجمع :

$12 + 7 =$

$14 + 3 =$

$9 + 3 =$

$7 + 8 =$

$15 + 5 =$

$12 + 5 =$

$2 + 16 =$


$10 + 9 =$

مسائل كلامية:

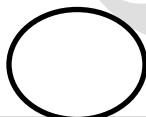
7

وضعت الام في المزهريه 5 وردات حمراء و 8 وردات صفراء .

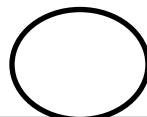
كم وردة وضعت الام في المزهريه؟



| |
|--|
| |
| |
| |
| |



| |
|--|
| |
| |
| |
| |



| |
|--|
| |
| |
| |
| |

8

كان مع أحمد 13 بنورة , خسر منها 5 بنانير كم بنورة بقيت معه؟

○

○

○

9

حملت نداء 18 بيضة , وقع عدد منها وانكسر . بقي معها 15 بيضة. كم بيضة انكسرت؟

○

○

○

10

كم بالونا كان مع رشا؟ اذا تفرقع في الصباح 7 بالونات وبقي معها 6 بالونات.

التمرين :

الجواب :

11

قطف سعيد 12 حبة برتقال يوم الاحد وقطف 8 حبات برتقال يوم الاثنين .
كم حبة برتقال قطف سعيد في اليومين؟

التمرين :

الجواب :

12

وضعت الام في الصحن 3 تفاحات و 6 موزات و 10 حبات كرز .
كم حبة فاكهة وضعت الام في الصحن؟

التمرين :

الجواب :

اكتب $=$, $<$, $>$

$$14 - 13 \bigcirc 3 + 16$$

$$7 + 7 \bigcirc 10 + 4$$

$$18 - 3 \bigcirc 20 - 15$$

$$2 + 1 + 11 \bigcirc 3 + 4 + 2$$

عملا مثمرا لكم

معلومات الاول